

Prueba de Matemáticas

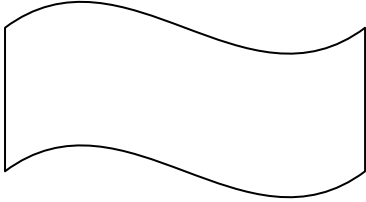

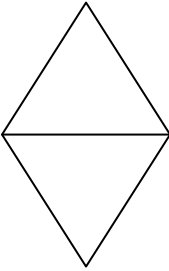
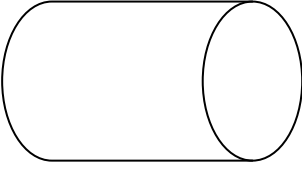
Nombre: Fecha:

Puntaje Total:14 Puntos..... Puntaje Obtenido:

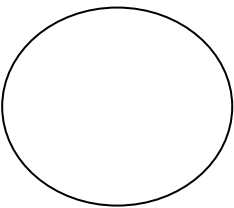
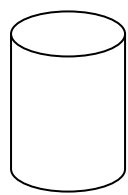
I.- Dibuja las siguientes figuras: (4 pts.)

Cuadrado	Círculo
Triángulo	Rectángulo

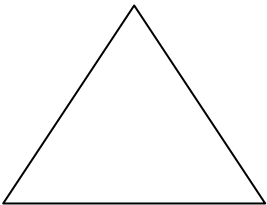
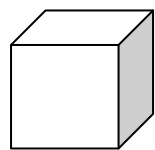
II.- Cuenta las líneas rectas y curvas de cada figura y escribe su número correspondiente. (4 pts.)

 <div><div>/ <input type="text"/></div><div>~ <input type="text"/></div></div>	 <div><div>/ <input type="text"/></div><div>~ <input type="text"/></div></div>
 <div><div>/ <input type="text"/></div><div>~ <input type="text"/></div></div>	 <div><div>/ <input type="text"/></div><div>~ <input type="text"/></div></div>

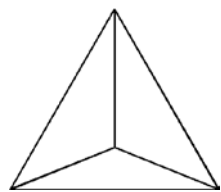
III.- Une cada figura 3D con la base que corresponda y escribe su nombre. (6 pts.)





.....



.....



.....



.....